



CAVALLINO  
DI SCACCHI  
EXTRA



Concorso Scacchistico „Cavallino di Scacchi”


## Categoria Alfiere

Ti attendono 30 esercizi, suddivisi in 10 da 3 punti, 10 da 4 punti e 10 da 5 punti. Si parte con 30 punti. Per ogni risposta sbagliata, viene detratto un quarto dei punti assegnati all'esercizio. Nessuna risposta vale 0 punti. Il punteggio massimo raggiungibile è di 150 punti.

### CONCORSO SCACCHISTICO „CAVALLINO DI SCACCHI” EXTRA


#### ESERCIZIO N.1

Qual è la mossa migliore per i Bianchi?




#### ESERCIZIO N.2

Quale mossa dei Bianchi permette di catturare il cavallo?




#### ESERCIZIO N.3

Quale mossa dei Bianchi permette di ottenere un vantaggio materiale?




#### ESERCIZIO N.4

Qual è la mossa migliore per i Bianchi?




#### ESERCIZIO N.5

Con il gioco ottimale di entrambe le parti, dopo quale mossa dei Bianchi danno scacco matto al secondo turno?



#### ESERCIZIO N.6

Quale mossa dei Neri permette di catturare la regina?






## Categoria Alfieri


## ESERCIZIO N.7

Qual è la mossa migliore per i Neri?




## ESERCIZIO N.8

Quale mossa dei Bianchi permette di guadagnare almeno una torre?




## ESERCIZIO N.9

Quale sacrificio dei Bianchi porta alla loro vittoria?




## ESERCIZIO N.10

Qual è la mossa migliore per i Bianchi?




## ESERCIZIO N.11

Qual è la mossa migliore per i Neri?




## ESERCIZIO N.12

Quale mossa dei Bianchi permette di ottenere un vantaggio materiale?




### ESERCIZIO N.13

Qual è la mossa migliore per i Bianchi?



## ESERCIZIO N.14

Quale mossa dei Neri permette di guadagnare almeno un alfiere?






## Categoria Alfieri


## ESERCIZIO N.15

Quale mossa dei Neri permette di guadagnare almeno un alfiere?




## ESERCIZIO N.16

Qual è la mossa migliore per i Bianchi?




## ESERCIZIO N.17

Come dovrebbero reagire al meglio i Bianchi allo scacco?




## ESERCIZIO N.18

Qual è la mossa migliore per i Bianchi




## ESERCIZIO N.19

Qual è la mossa migliore per i Neri?




## ESERCIZIO N.20

Quale mossa dei Bianchi permette di guadagnare almeno una torre?




## ESERCIZIO N.21

Quale mossa dei Neri permette di catturare la regina?



## ESERCIZIO N.22

Qual è la mossa migliore per i Neri?






## Categoria Alfieri


### ESERCIZIO N.23

Qual è la mossa migliore per i Neri?




## ESERCIZIO N.24

Qual è la mossa migliore per i Neri?




### ESERCIZIO N.25

Qual è la mossa migliore per i Bianchi?




## ESERCIZIO N.26

Con il gioco ottimale di entrambe le parti, dopo quale mossa dei Neri danno scacco matto al terzo turno?




## ESERCIZIO N.27

Qual è la mossa migliore per i Neri?




## ESERCIZIO N.28

Qual è la mossa migliore per i Neri?



## ESERCIZIO N.29

Qual è la mossa migliore per i Neri?



### ESERCIZIO N.30

Qual è la mossa migliore per i Bianchi?

